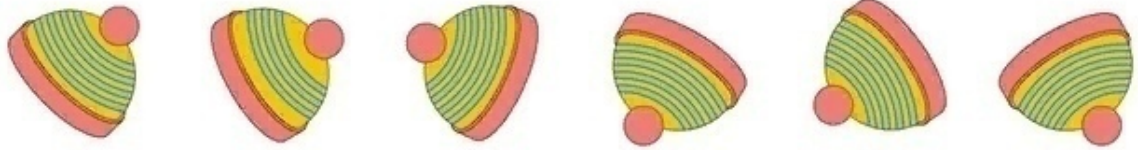


5.



А

Б

В

Г

Д

Е

6.



А

Б

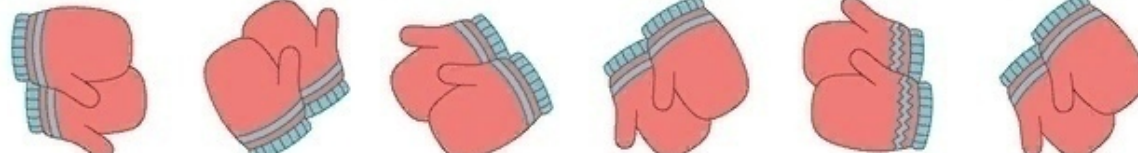
В

Г

Д

Е

7.



А

Б

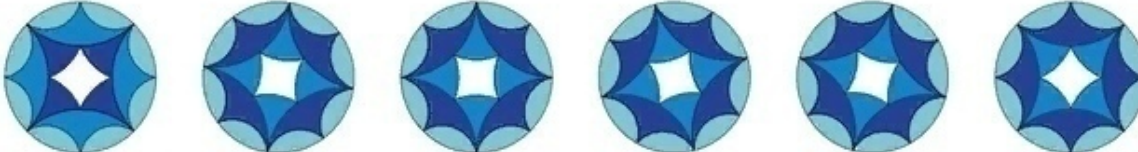
В

Г

Д

Е

8.



А

Б


В

Г

Д

Е

9.



А

Б

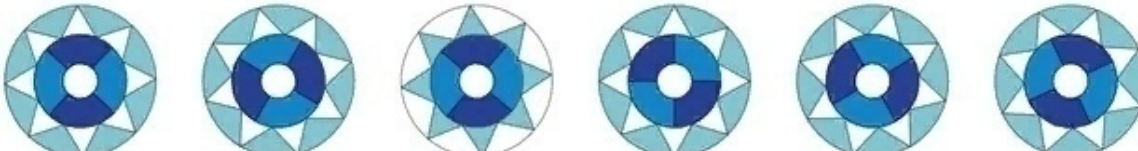
В

Г

Д

Е

10.



А

Б


В

Г

Д

Е

11.



А

Б

В

Г

Д

Е

fruttis


$$\text{apple} + \text{apple} + \text{apple} = 30$$

$$\text{apple} + \text{fruttis 5\%} + \text{fruttis 5\%} = 18$$

$$\text{fruttis 5\%} - \text{coconut} = 2$$

$$\text{coconut} + \text{apple} + \text{fruttis 5\%} = ??$$

8	+	2	=	
		+		
6			=	4
=		=		=
2		4	=	6



Найди пару каждому предмету. Какой предмет остался без пары?



38



39

Угадай слово



Проверь себя

Огород, улица, коньки, голубика